


(v) لاروا اور تخلی میں کیا فرق ہوتا ہے؟

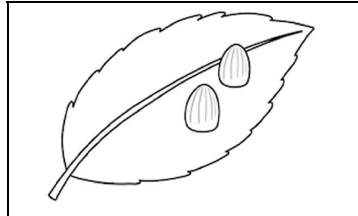
SECTION-III

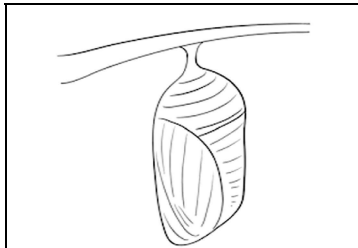
(3) سوال نمبر 1- (الف): درج ذیل جدول مکمل کریں۔

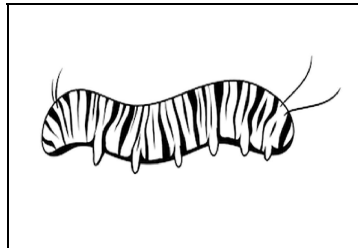
جانور جو پیدائش کے وقت اپنے والدین سے مختلف ہوتے ہیں	جانور جو پیدائش کے وقت اپنے والدین جیسے ہوتے ہیں	نمبر شمار
		(i)
		(ii)
		(iii)

(4) (ب): تصاویر میں تخلی کا دور حیات دیا گیا ہے۔ خالی جگہ میں دور حیات کے مرحلے کا نام لکھیں۔









کل نمبر: 25 واقفیت عامہ (دوم) ٹیسٹ نمبر 6 وقت: 30 منٹ

تیسرا مہینا، دوسرا ہفتہ، چھٹا دن **سلیبس**: ذہرائی ٹیسٹ سلیبس (دوسرا ہفتہ)

SECTION-I

سوال نمبر 1- درج ذیل میں سے درست جواب کے گرد اکرہ کا نشان لگائیں۔ (4x2=8)

(i) مینڈک کا دور حیات مشتمل ہوتا ہے:

(الف)	دو مراحل پر	(ب)	تین مراحل پر	(ج)	چار مراحل پر	(د)	سات مراحل پر
-------	-------------	-----	--------------	-----	--------------	-----	--------------

(ii) حشرات کے دور حیات میں انڈوں سے بنتا ہے:

(الف)	لاروا	(ب)	بیوپا	(ج)	ٹیڈ پول	(د)	ایمبریو
-------	-------	-----	-------	-----	---------	-----	---------

(iii) مادہ مینڈک پانی میں انڈے دیتا ہے:

(الف)	پہلے مرحلے	(ب)	دوسرے مرحلے	(ج)	تیسرے مرحلے	(د)	چوتھے مرحلے میں
-------	------------	-----	-------------	-----	-------------	-----	-----------------

(iv) زیادہ تر حشرات پیدا ہوتے ہیں:

(الف)	پانی سے	(ب)	انڈوں سے	(ج)	ہوا سے	(د)	بیج سے
-------	---------	-----	----------	-----	--------	-----	--------

(v) ٹیڈ پول نشوونما پا کر بن جاتا ہے:

(الف)	لاروا	(ب)	چوہا	(ج)	چوزہ	(د)	مینڈک
-------	-------	-----	------	-----	------	-----	-------

SECTION-II

سوال نمبر 1- درج ذیل سوالات کے مختصر جواب لکھیں۔ (5x2=10)

(i) دور حیات سے کیا مراد ہے؟

(ii) کیا پودوں اور جانوروں کا دور حیات ایک جیسا ہوتا ہے؟

(iii) پرندوں کے دور حیات کے مراحل لکھیں۔

(iv) پودوں کے دور حیات کے آخری مرحلے میں کیا ہوتا ہے؟
